

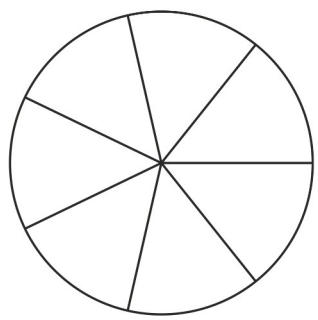
Zahlbereich										Rechenoperationen					Grundlagen										
bis 9	bis 10	bis 20	bis 30	bis 40	bis 50	bis 70	bis 100	bis 1.000	bis 10.000	größer 10.000	ohne 0	ohne Übertrag	mit MerkHzahl	Addition	Subtraktion	Multiplikation	Division	Brüche	Prozente	Zahlen	Mengen	Ganzes / Teile	Dezimalsystem	Bruchdarstellung	Kreis

Name | Datum

40_11_1 [157] Bruchrechnung – Bruchdarstellung Kreis bis 12

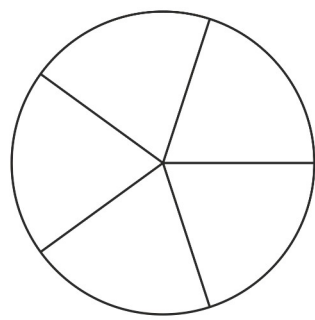
Ein Bruchteil des Kreises

Bestimme den Zähler und zeichne den Bruchteil des Kreises in die Zeichnung ein.



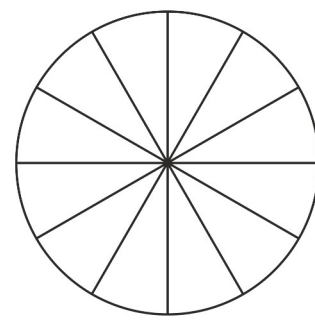
$$\frac{3}{7}$$

Zähler
Nenner



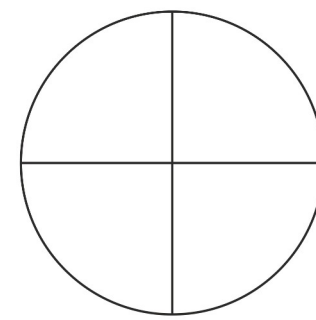
$$\frac{1}{5}$$

Zähler
Nenner



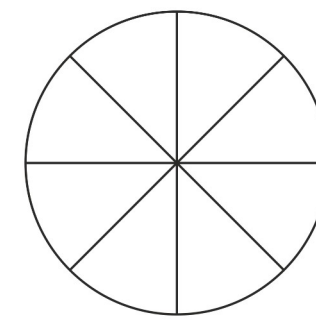
$$\frac{2}{12}$$

Zähler
Nenner

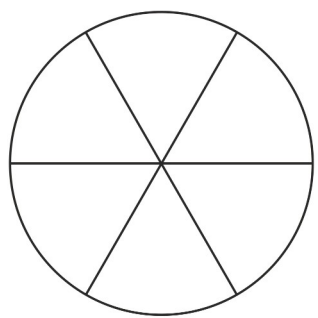


$$\frac{3}{4}$$

Zähler
Nenner

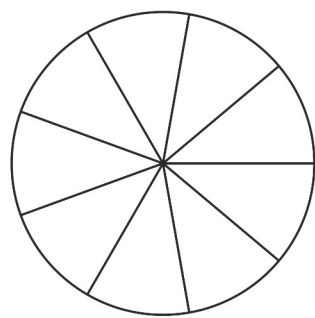


$$\frac{3}{8}$$



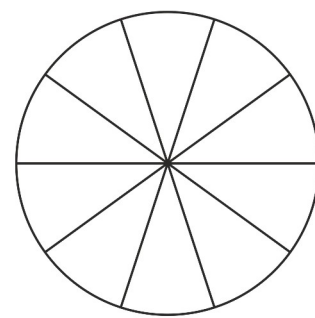
$$\frac{4}{6}$$

Zähler
Nenner



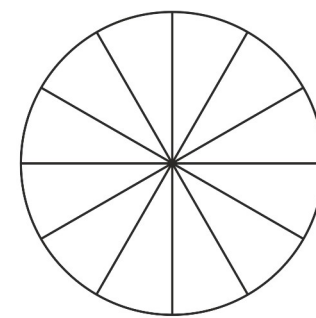
$$\frac{6}{9}$$

Zähler
Nenner



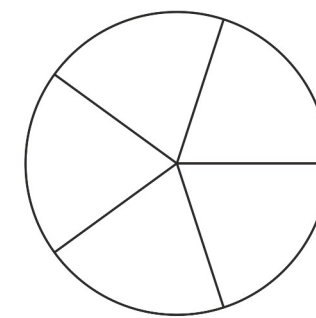
$$\frac{3}{10}$$

Zähler
Nenner



$$\frac{3}{12}$$

Zähler
Nenner



$$\frac{4}{5}$$

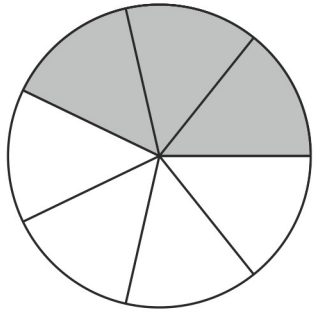


Zahlbereich										Rechenoperationen					Grundlagen										
bis 9	bis 10	bis 20	bis 30	bis 40	bis 50	bis 70	bis 100	bis 1.000	bis 10.000	größer 10.000	ohne 0	ohne Übertrag	mit MerkHzahl	Addition	Subtraktion	Multiplikation	Division	Brüche	Prozente	Zahlen	Mengen	Ganzes / Teile	Dezimalsystem	Bruchdarstellung	Kreis

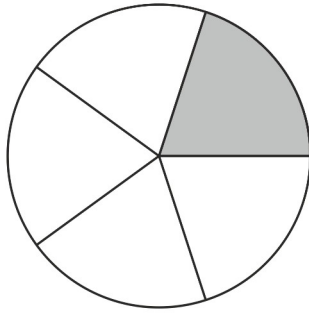
40_11_1 [157] Bruchrechnung – Bruchdarstellung Kreis bis 12

Ein Bruchteil des Kreises

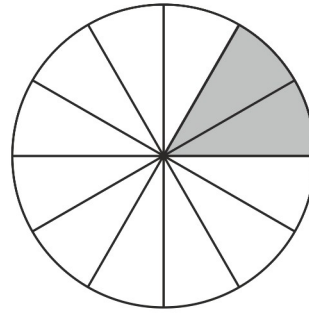
Bestimme den Zähler und zeichne den Bruchteil des Kreises in die Zeichnung ein.



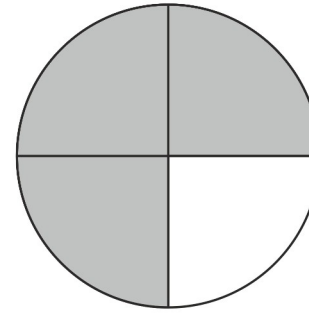
$$\frac{3}{7}$$

Zähler
Nenner

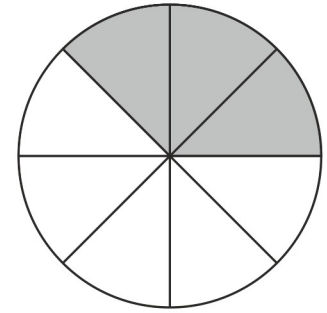
$$\frac{1}{5}$$

Zähler
Nenner

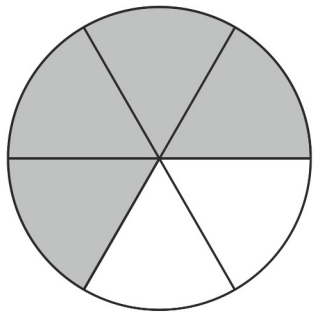
$$\frac{2}{12}$$

Zähler
Nenner

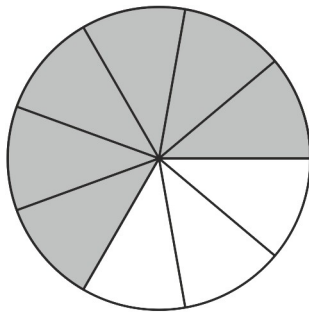
$$\frac{3}{4}$$

Zähler
Nenner

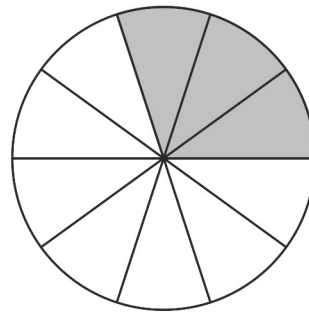
$$\frac{3}{8}$$



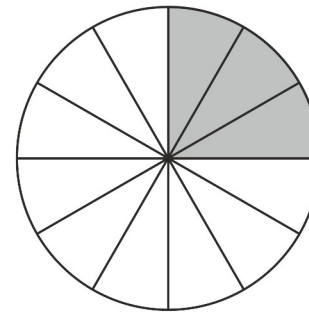
$$\frac{4}{6}$$

Zähler
Nenner

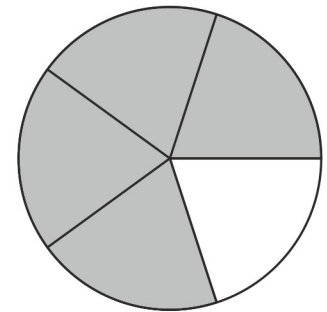
$$\frac{6}{9}$$

Zähler
Nenner

$$\frac{3}{10}$$

Zähler
Nenner

$$\frac{3}{12}$$

Zähler
Nenner

$$\frac{4}{5}$$

