

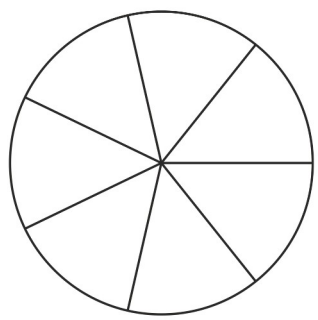
Zahlbereich										Rechenoperationen					Grundlagen										
bis 9	bis 10	bis 20	bis 30	bis 40	bis 50	bis 70	bis 100	bis 1.000	bis 10.000	größer 10.000	ohne 0	ohne Übertrag	mit MerkHzahl	Addition	Subtraktion	Multiplikation	Division	Brüche	Prozente	Zahlen	Mengen	Ganzes / Teile	Dezimalsystem	Bruchdarstellung	Kreis

Name | Datum

40_12_1 [346] Bruchrechnung – Bruchdarstellung Kreis bis 12

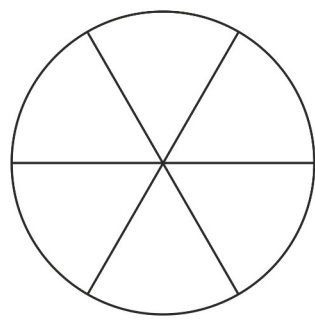
Ein Bruchteil des Kreises

Bestimme den Zähler und den Nenner und zeichne den Bruchteil des Kreises in die Zeichnung ein.



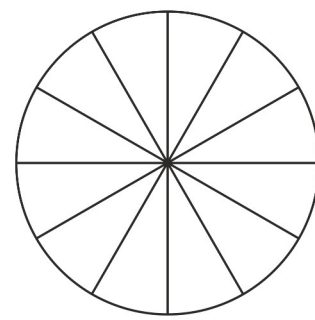
$$\frac{5}{\quad}$$

Zähler
Nenner



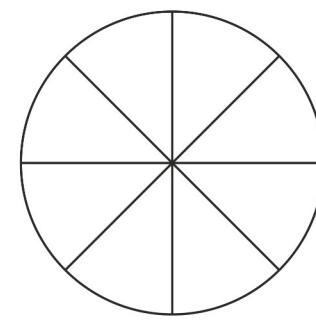
$$\frac{3}{\quad}$$

Zähler
Nenner



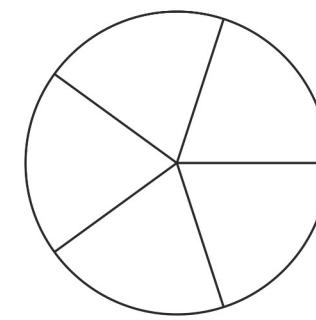
$$\frac{4}{\quad}$$

Zähler
Nenner

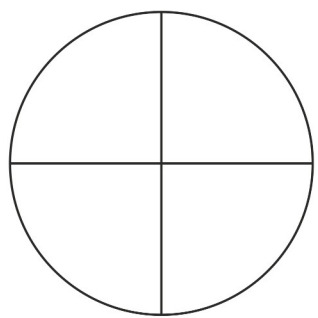


$$\frac{3}{\quad}$$

Zähler
Nenner

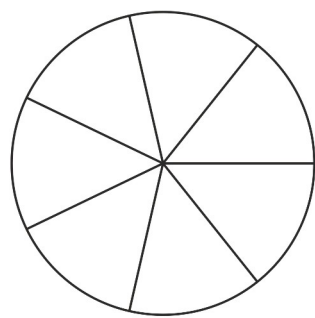


$$\frac{3}{\quad}$$



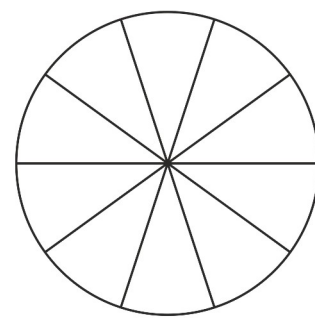
$$\frac{3}{\quad}$$

Zähler
Nenner



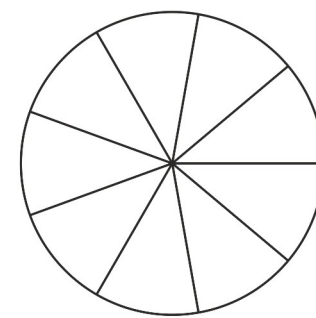
$$\frac{3}{\quad}$$

Zähler
Nenner



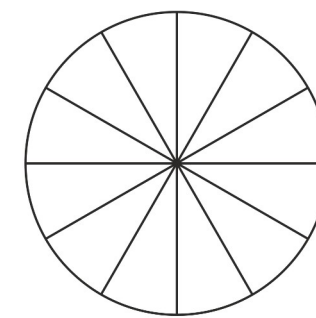
$$\frac{7}{\quad}$$

Zähler
Nenner



$$\frac{2}{\quad}$$

Zähler
Nenner



$$\frac{5}{\quad}$$

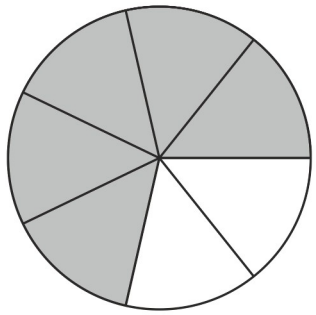


Zahlbereich										Rechenoperationen					Grundlagen										
bis 9	bis 10	bis 20	bis 30	bis 40	bis 50	bis 70	bis 100	bis 1.000	bis 10.000	größer 10.000	ohne 0	ohne Übertrag	mit MerkHzahl	Addition	Subtraktion	Multiplikation	Division	Brüche	Prozente	Zahlen	Mengen	Ganzes / Teile	Dezimalsystem	Bruchdarstellung	Kreis

40_12_1 [346] Bruchrechnung – Bruchdarstellung Kreis bis 12

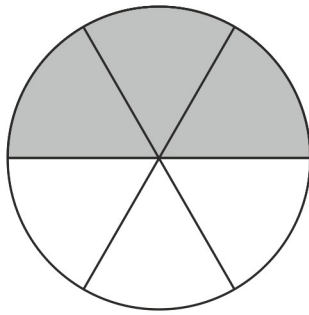
Ein Bruchteil des Kreises

Bestimme den Zähler und den Nenner und zeichne den Bruchteil des Kreises in die Zeichnung ein.



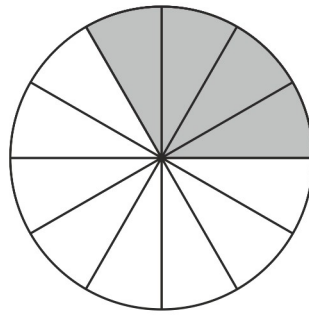
$$\frac{5}{7}$$

Zähler
Nenner



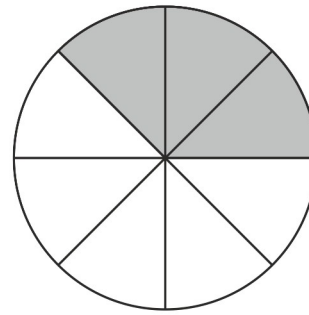
$$\frac{3}{6}$$

Zähler
Nenner



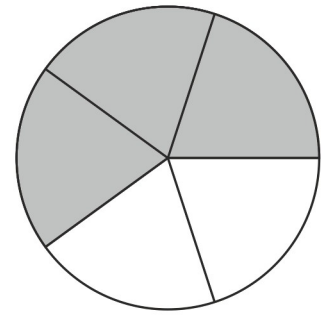
$$\frac{4}{12}$$

Zähler
Nenner

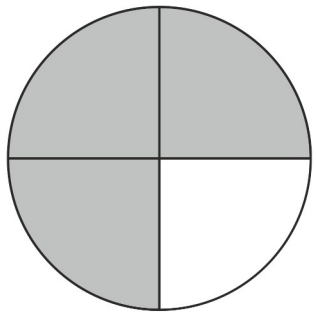


$$\frac{3}{8}$$

Zähler
Nenner

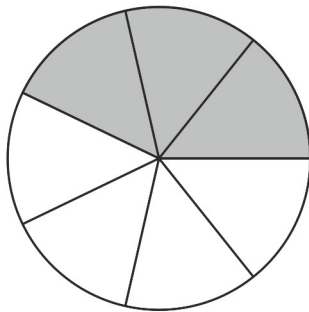


$$\frac{3}{5}$$



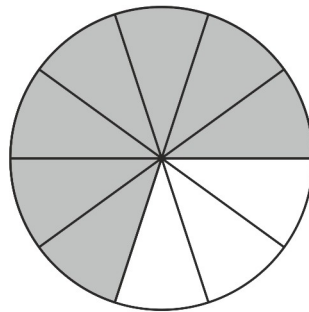
$$\frac{3}{4}$$

Zähler
Nenner



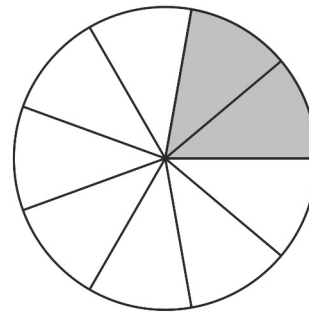
$$\frac{3}{7}$$

Zähler
Nenner



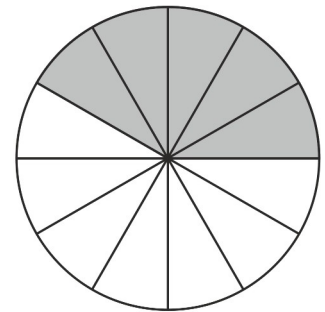
$$\frac{7}{10}$$

Zähler
Nenner



$$\frac{2}{9}$$

Zähler
Nenner



$$\frac{5}{12}$$

