

Aufgaben

40\_01\_1 [344] Analog Uhr - Uhrzeit ankreuzen, 12 Stunden

Der kleine Zeiger heißt Stundenzeiger und der große Zeiger heißt Minutenzeiger.




Name

Datum




**Kreuze die richtige Uhrzeit an.**

Auf welcher Uhr ist es 11 Uhr?




Beispiel






Auf welcher Uhr ist es 3 Uhr?



Auf welcher Uhr ist es 2 Uhr?



Auf welcher Uhr ist es 1 Uhr?



Der kleine Zeiger heißt Stundenzeiger.




Der große Zeiger heißt Minutenzeiger.






### Kreuze die richtige Uhrzeit an.

Auf welcher Uhr ist es 11 Uhr?




Beispiel






Auf welcher Uhr ist es 3 Uhr?



Auf welcher Uhr ist es 2 Uhr?



Auf welcher Uhr ist es 1 Uhr?



Der kleine Zeiger heißt Stundenzeiger.

Der große Zeiger heißt Minutenzeiger.

