

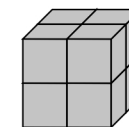
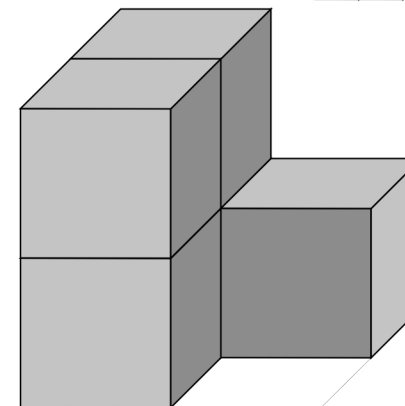
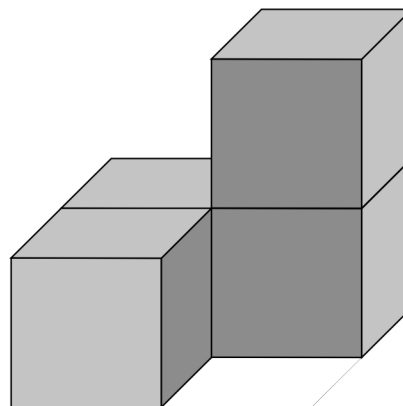
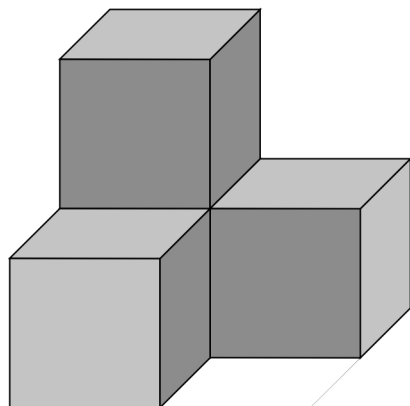
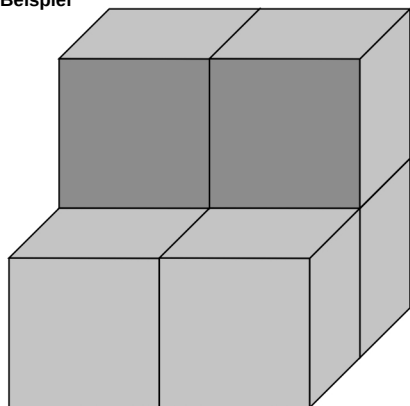
Aufgaben

80_02_0 [932] Geometrie Quader/Würfel

Eine Kiste soll aus 8 Würfel zusammengesetzt werden.

Bauplan 2 x 2 x 2

Beispiel

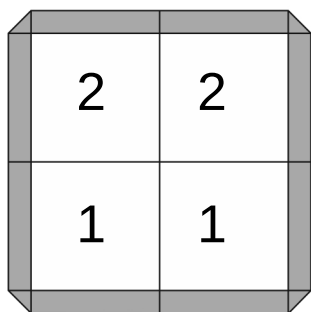


Name

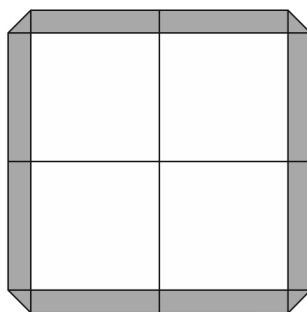
Datum

Erstelle einen Plan nach den vorgegebenen Würfeln:

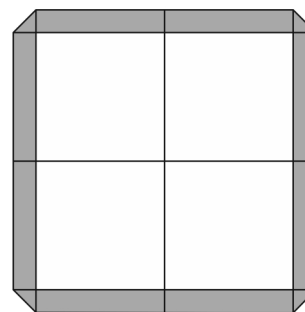
Bauplan



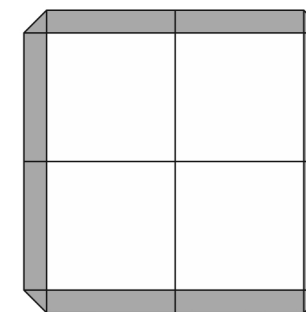
Bauplan



Bauplan



Bauplan



Wie viele Würfel:

Es sind 6 Würfel.
Es fehlen 2 Würfel.

Es sind Würfel.
Es fehlen Würfel.

Es sind Würfel.
Es fehlen Würfel.

Es sind Würfel.
Es fehlen Würfel.



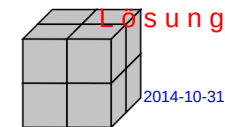
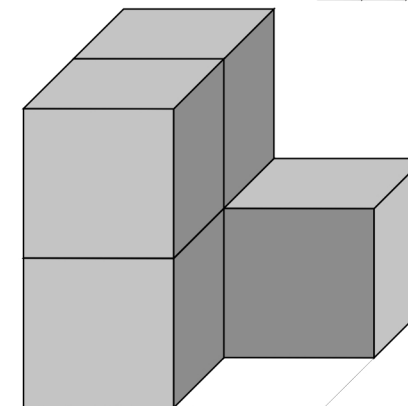
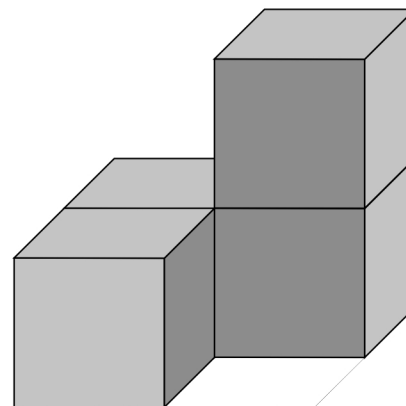
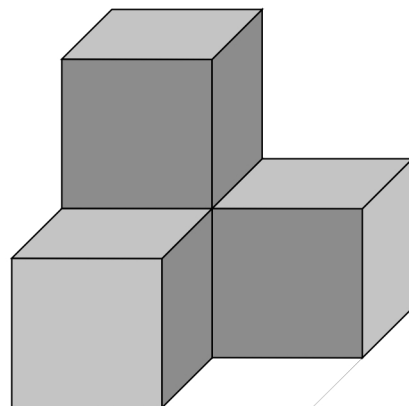
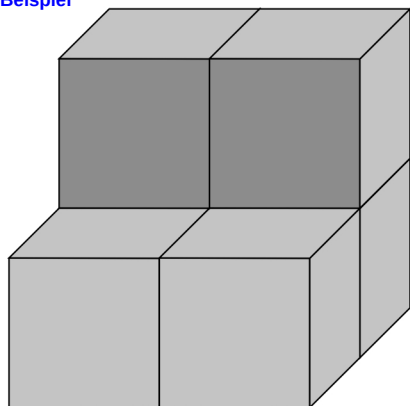
Lösung

80_02_0 [932] Geometrie Quader/Würfel

Eine Kiste soll aus 8 Würfel zusammengesetzt werden.

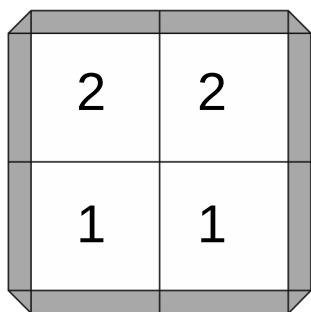
Bauplan 2 x 2 x 2

Beispiel

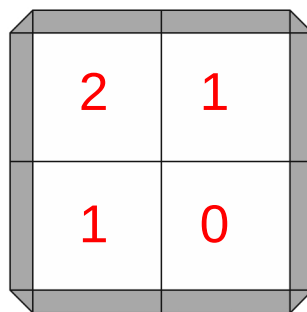


Erstelle einen Plan nach den vorgegebenen Würfeln:

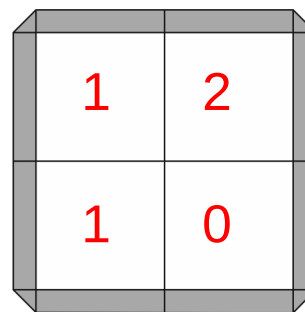
Bauplan



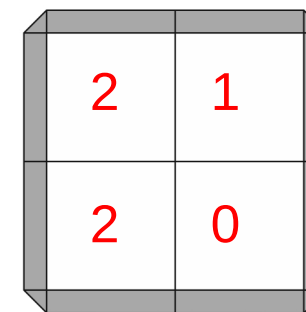
Bauplan



Bauplan



Bauplan



Wie viele Würfel:

Es sind 6 Würfel.
Es fehlen 2 Würfel.

Es sind 4 Würfel.
Es fehlen 4 Würfel.

Es sind 4 Würfel.
Es fehlen 4 Würfel.

Es sind 5 Würfel.
Es fehlen 3 Würfel.