

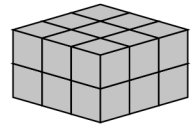
Aufgaben

80\_03\_5 [684] Geometrie Quader/Würfel

**Eine Kiste soll aus 18 Würfel zusammengesetzt werden.**

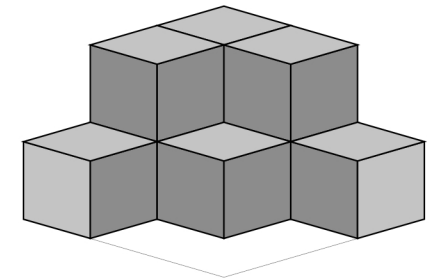
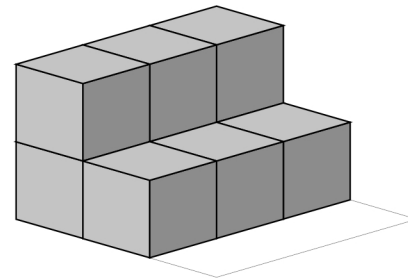
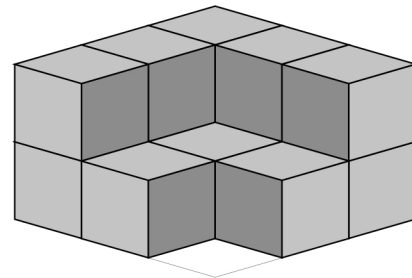
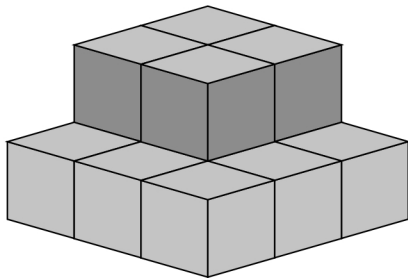
Bauplan 3 x 3 x 2

Beispiel



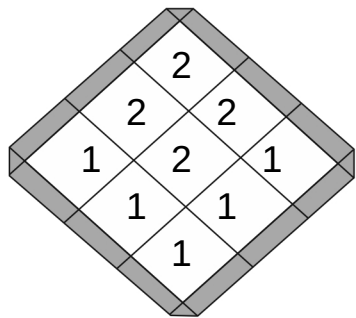
Name \_\_\_\_\_

Datum \_\_\_\_\_

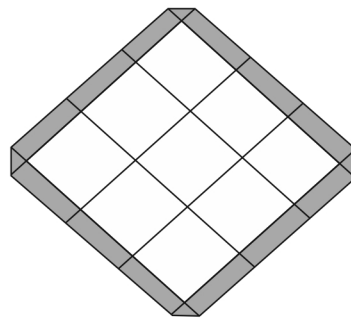


Erstelle einen Plan nach den vorgegebenen Würfeln:

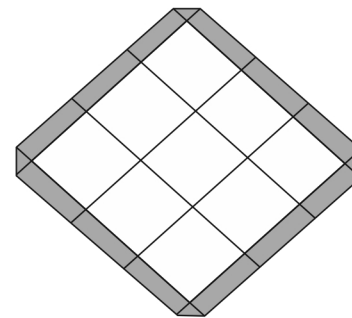
**Bauplan**



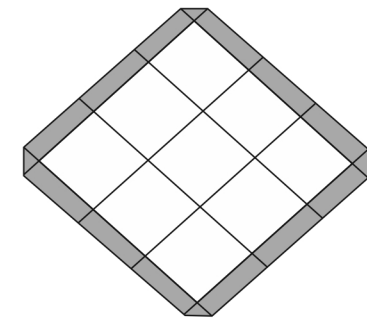
**Bauplan**



**Bauplan**



**Bauplan**



**Wie viele Würfel:**

Es sind 13 Würfel.

Es fehlen 5 Würfel.

Es sind \_\_\_\_\_ Würfel.

Es fehlen \_\_\_\_\_ Würfel.

Es sind \_\_\_\_\_ Würfel.

Es fehlen \_\_\_\_\_ Würfel.

Es sind \_\_\_\_\_ Würfel.

Es fehlen \_\_\_\_\_ Würfel.



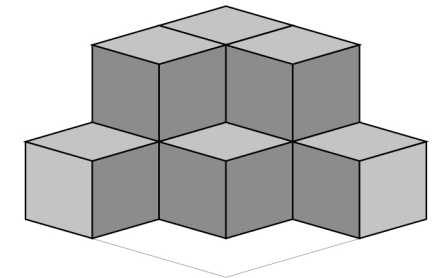
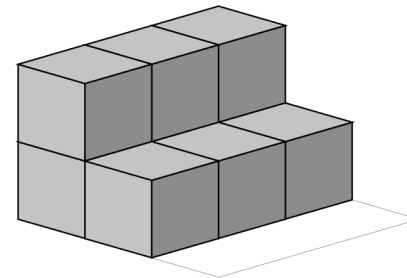
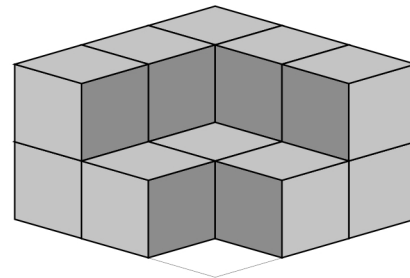
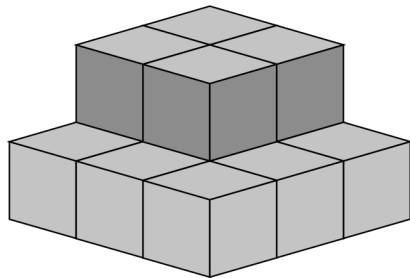
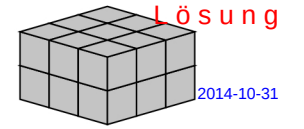
**RechenNet**  
Copyright © 2011 - 2014

www.RechenNet.com powered by KolbergNet

**Eine Kiste soll aus 18 Würfel zusammengesetzt werden.**

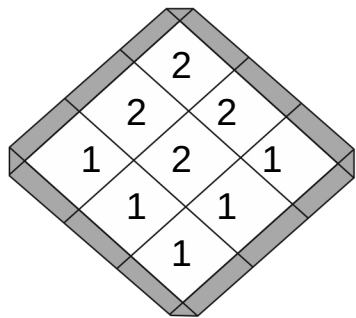
Bauplan 3 x 3 x 2

Beispiel

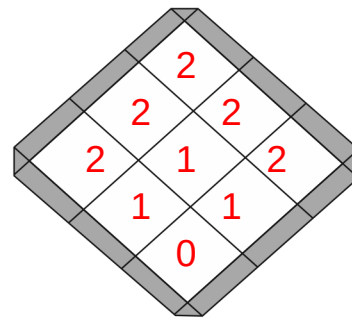


Erstelle einen Plan nach den vorgegebenen Würfeln:

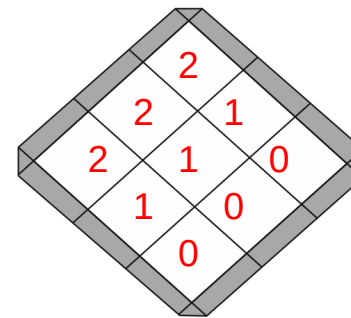
**Bauplan**



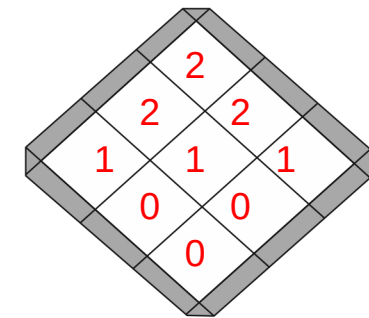
**Bauplan**



**Bauplan**



**Bauplan**



**Wie viele Würfel:**

Es sind 13 Würfel.  
Es fehlen 5 Würfel.

Es sind 13 Würfel.  
Es fehlen 5 Würfel.

Es sind 9 Würfel.  
Es fehlen 9 Würfel.

Es sind 9 Würfel.  
Es fehlen 9 Würfel.

