

Aufgaben


80_04_5 [654] Geometrie Quader/Würfel

Eine Kiste soll aus 32 Würfel zusammengesetzt werden.

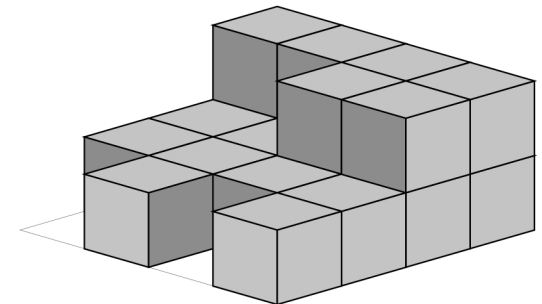
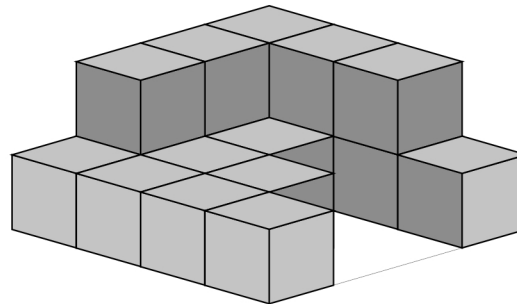
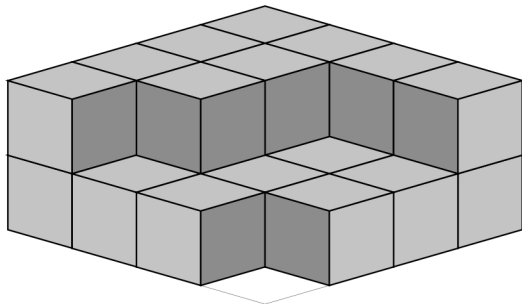
Bauplan 4 x 4 x 2

Beispiel

Name

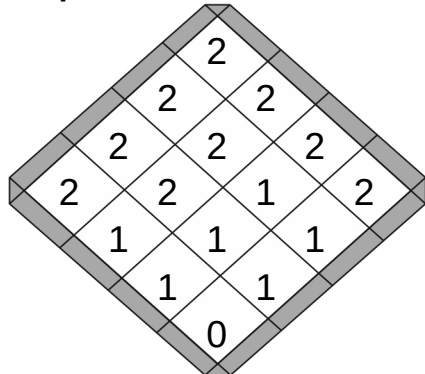


Datum

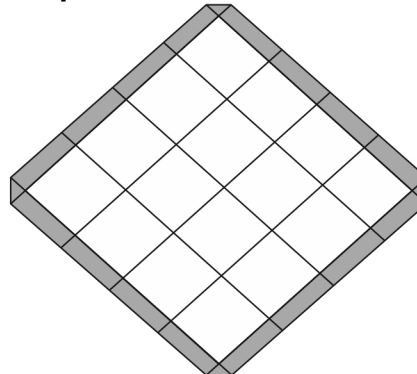


Erstelle einen Plan nach den vorgegebenen Würfeln:

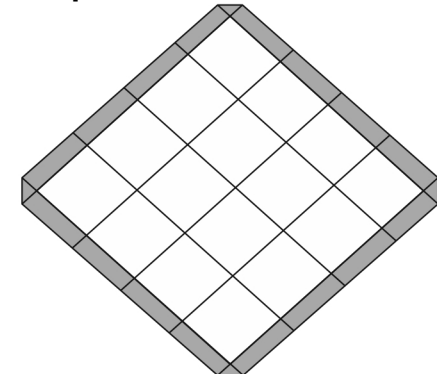
Bauplan



Bauplan



Bauplan



Wie viele Würfel:

Es sind 24 Würfel.

Es fehlen 8 Würfel.

Es sind _____ Würfel.

Es fehlen _____ Würfel.

Es sind _____ Würfel.

Es fehlen _____ Würfel.



Lösung


80_04_5 [654] Geometrie Quader/Würfel

Eine Kiste soll aus 32 Würfel zusammengesetzt werden.

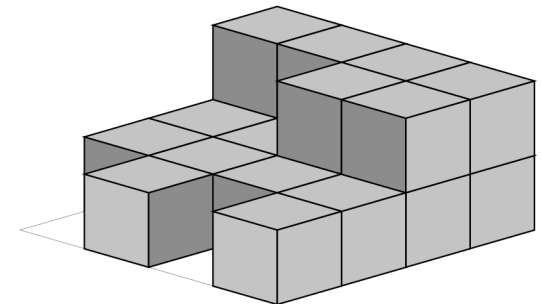
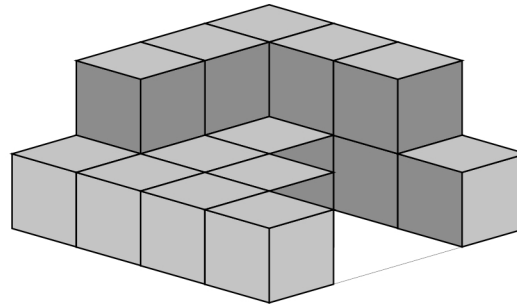
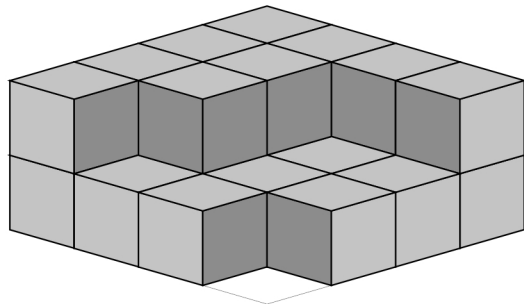
Bauplan 4 x 4 x 2

Beispiel

Lösung

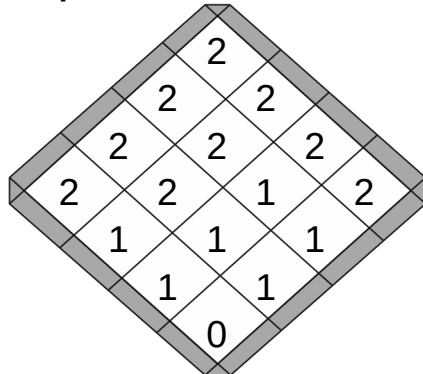


2014-10-31



Erstelle einen Plan nach den vorgegebenen Würfeln:

Bauplan

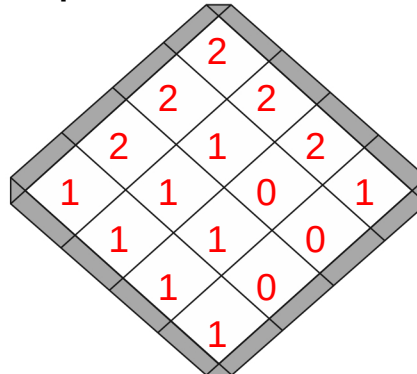


Wie viele Würfel:

Es sind 24 Würfel.

Es fehlen 8 Würfel.

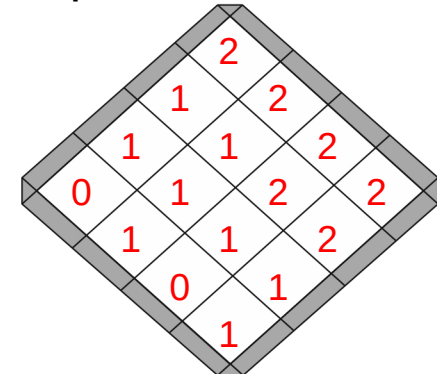
Bauplan



Es sind 18 Würfel.

Es fehlen 14 Würfel.

Bauplan



Es sind 20 Würfel.

Es fehlen 12 Würfel.

