

Aufgaben


80\_05\_5 [834] Geometrie Quader/Würfel

# Eine Kiste soll aus 50 Würfel zusammengesetzt werden.

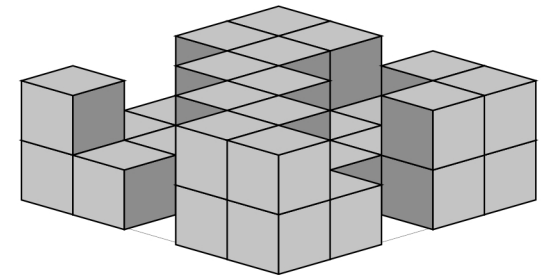
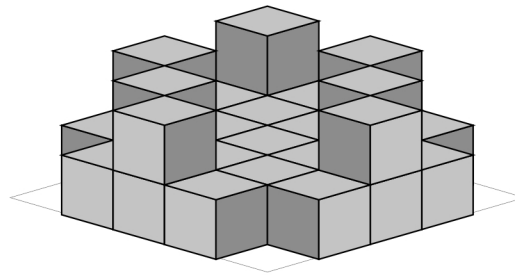
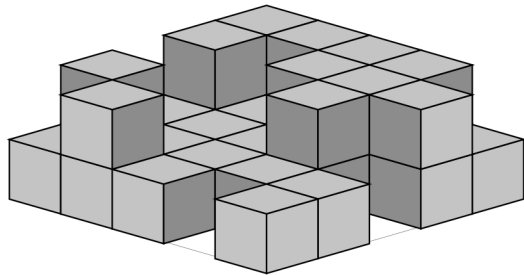
Bauplan 5 x 5 x 2

Beispiel

Name

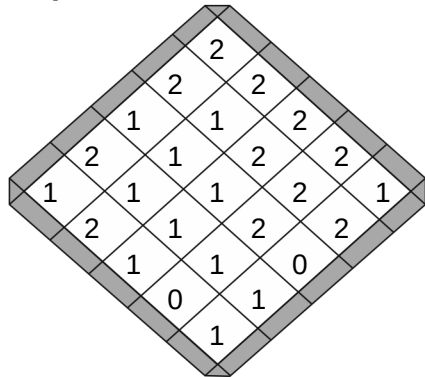


Datum

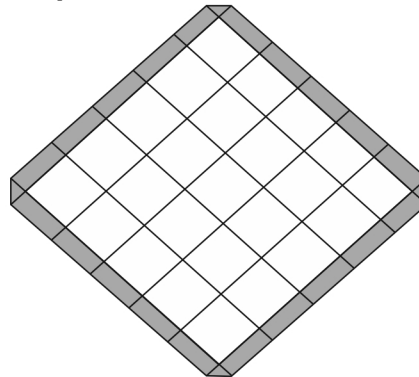


Erstelle einen Plan nach den vorgegebenen Würfeln:

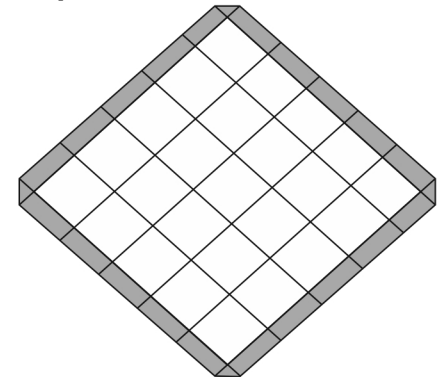
Bauplan



Bauplan



Bauplan



Wie viele Würfel:

Es sind 34 Würfel.

Es fehlen 16 Würfel.

Es sind \_\_\_\_\_ Würfel.

Es fehlen \_\_\_\_\_ Würfel.

Es sind \_\_\_\_\_ Würfel.

Es fehlen \_\_\_\_\_ Würfel.

Lösung

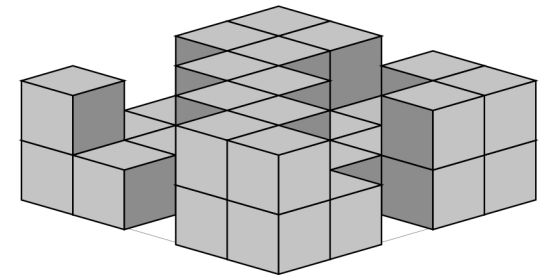
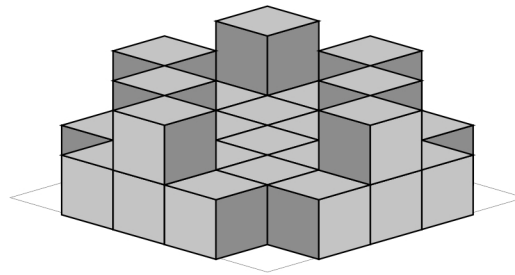
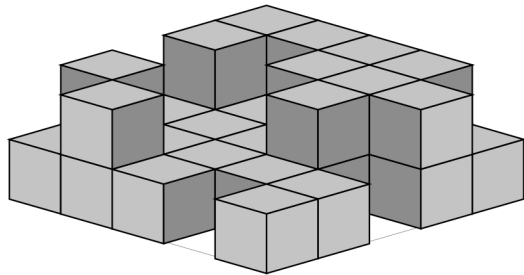
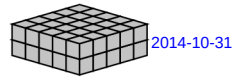
80\_05\_5 [834] Geometrie Quader/Würfel

# Eine Kiste soll aus 50 Würfel zusammengesetzt werden.

Bauplan 5 x 5 x 2

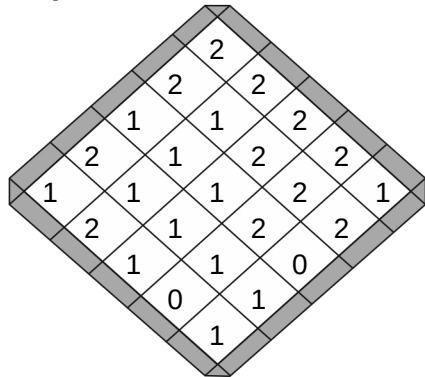
Beispiel

Lösung

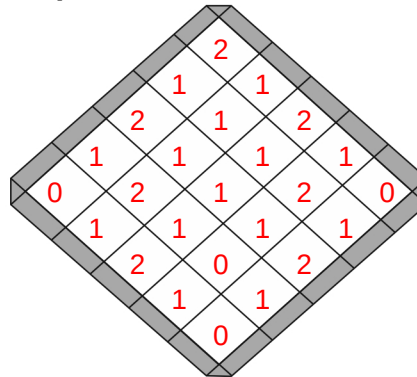


Erstelle einen Plan nach den vorgegebenen Würfeln:

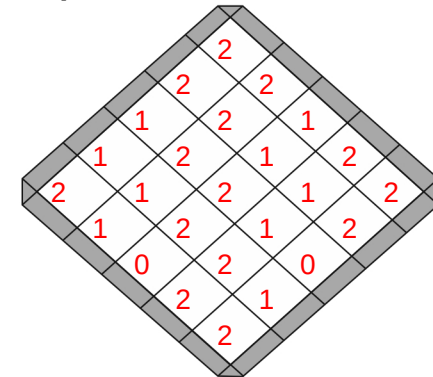
Bauplan



Bauplan



Bauplan



Wie viele Würfel:

Es sind 34 Würfel.

Es fehlen 16 Würfel.

Es sind 28 Würfel.

Es fehlen 22 Würfel.

Es sind 37 Würfel.

Es fehlen 13 Würfel.